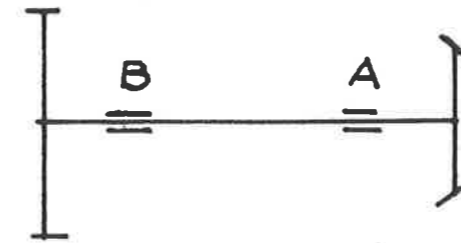
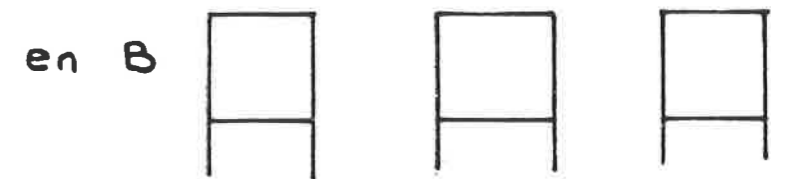


Précisez le(s) rôle(s) que vous attribuez aux deux gorges réalisées sur l'arbre au niveau du pignon 3.
Formulez des critiques éventuelles.

Montage de l'arbre.



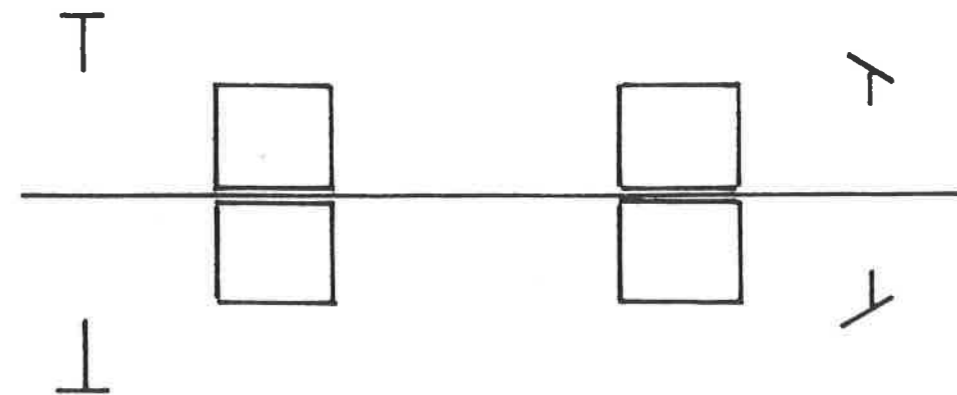
Dessinez ci-dessous les roulements possibles :



Choix : en A _____ en B _____

Justification du choix _____

Schéma du montage envisagé : Dessinez les roulements schématisez les arrêts



Dessin d'ensemble : à effectuer ci-contre.